

文化財めぐりウォークラリー

1 東山寺院・江名子川コース

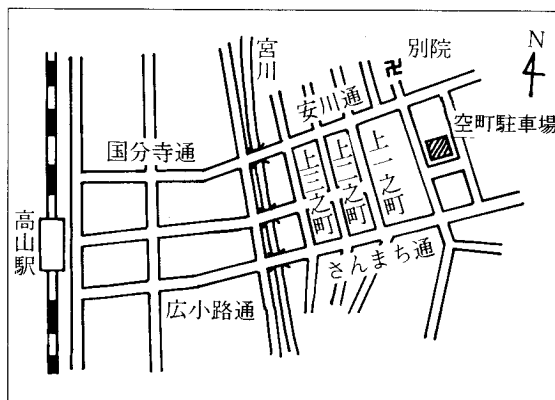
〔行程〕 約4.1km

東山の墓地以外はほとんど舗装道路です。

〔出発・到着地〕 空町駐車場

お車の方は、市役所駐車場を御利用下さい。

土曜・日曜・国民の祝日に利用できますが、閉庁日に祭礼やゴールデンウィークなど臨時駐車場として利用している場合は利用できません。



- 「文化めぐりウォークラリー」とはコマ図を見てコースを歩き、文化財や遺跡を見学し、郷土の歴史の学習をしてもらおうというものです。
- ラリーは設定された時間にどれだけ近いかを競うもので、決して走ったりする必要はありません。早すぎても遅すぎても減点の対象になります。

回り方と注意事項

- ◆筆記用具と時計を各自でお持ち下さい。
- ◆別紙のコマ図に従って歩きます。コマ図と次のコマ図の間の交差点は、省略してますから直進してください。文化財やその土地をよく見学して回しましょう。
- ◆途中、C P（チェックポイント）では、問題用紙の文化財に関する問題を解いて進んで下さい。（ヒントは各文化財の説明板などにあります。）
- ◆各コマ図では、矢印（↑）の方向に進みますが、C Pまで行って折り返すものは、戻りの進路を点線の矢印（↓）で示しています。
- ◆コースを回った後は、解答用紙を高山市郷土館内、文化課へ直接お持ちになるか、郵送して下さい。

郵送・お問い合わせ先 →

〒506-8555 高山市花岡町2丁目18番地

高山市教育委員会 文化財保護課

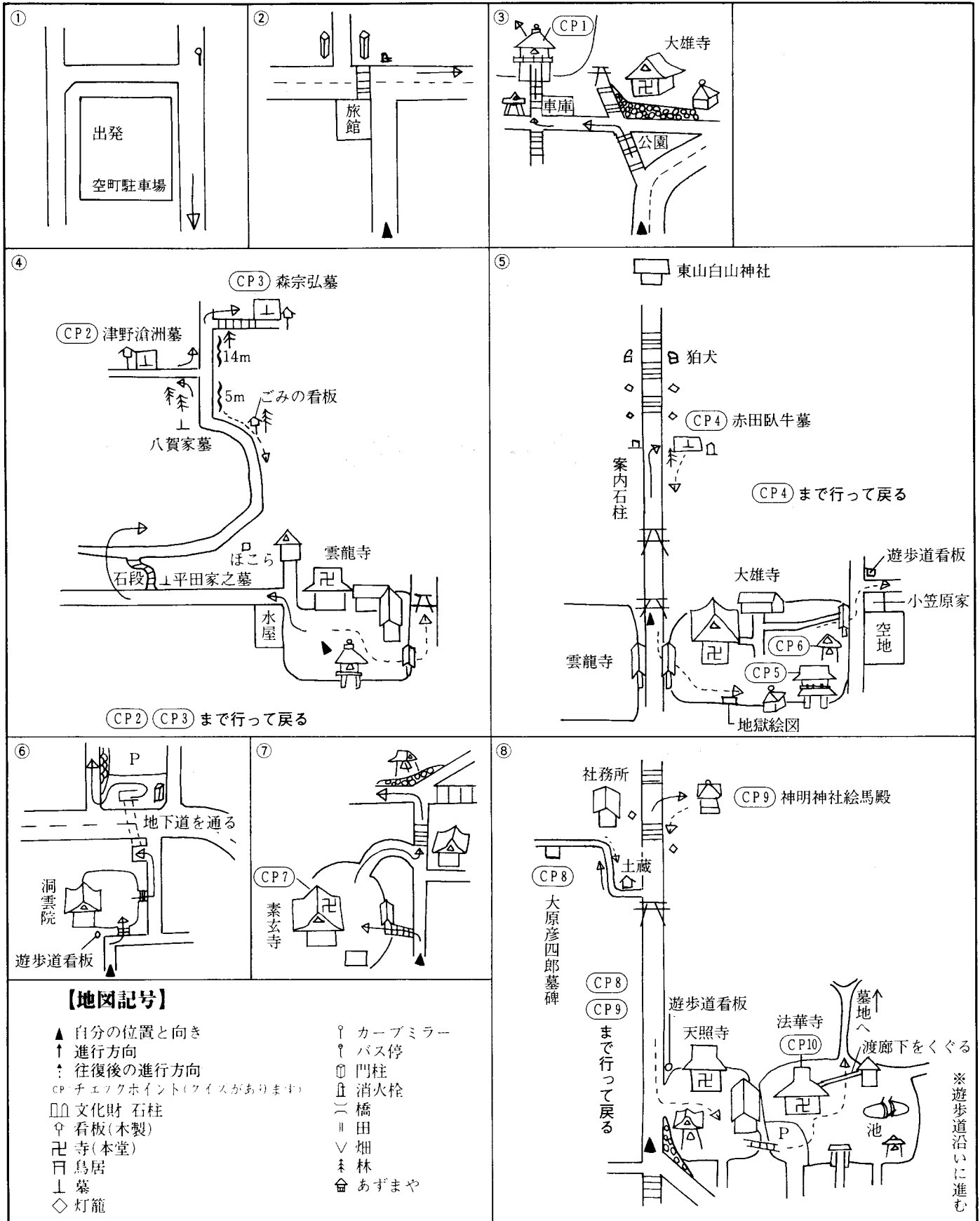
電話 0577-35-3156

- ☆解答用紙を提出された方には、『高山市文化財地図』を差し上げます。（初回のみ）
- また異なるコースを3コース以上回られた方には、詳細な『高山市文化財図録』を郵送いたします。（図録発送は平成6年3月以降になります。）

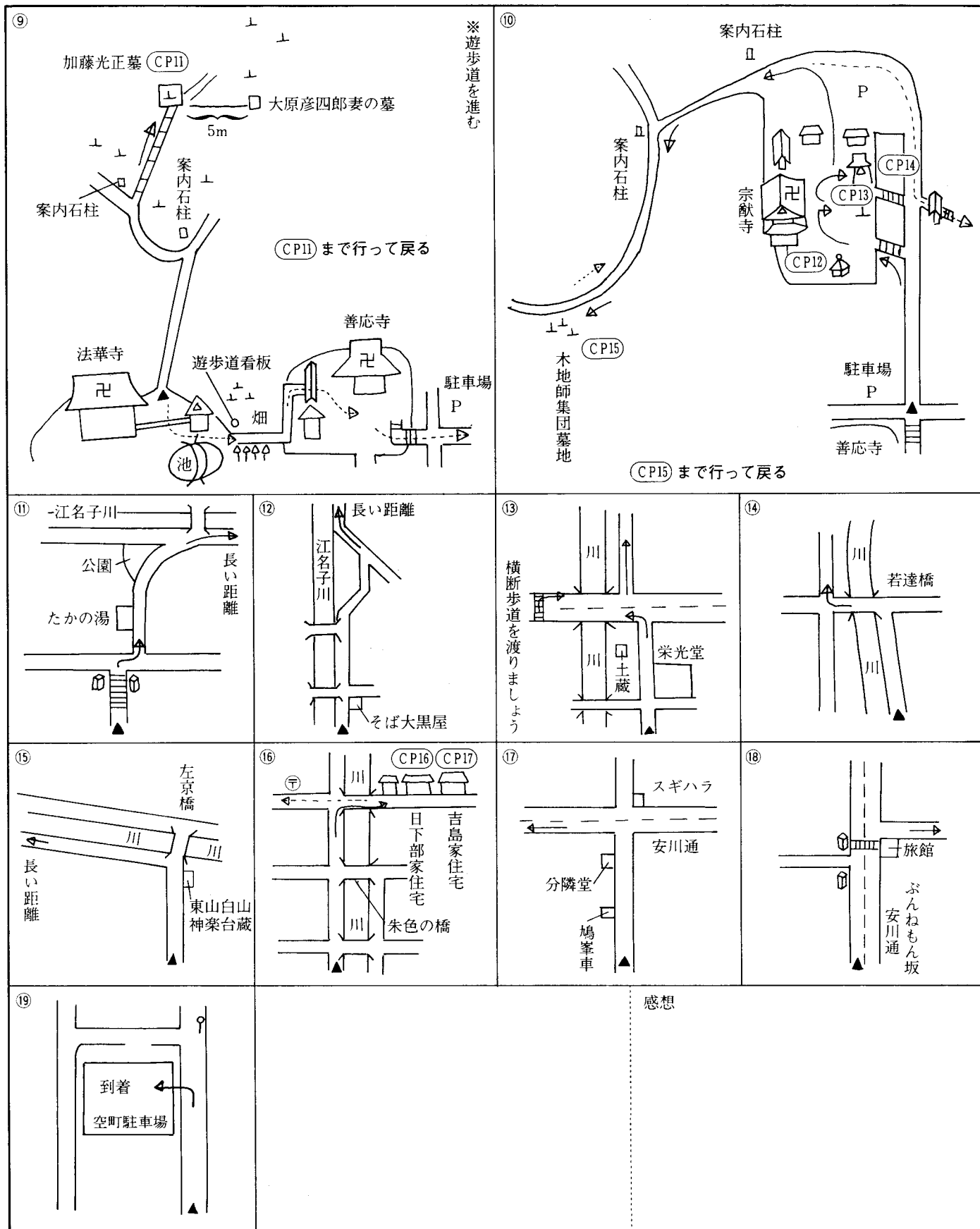
- 小学生だけでは交通安全上危険なところもありますから、保護者の方がつきそってください。
 - 交通事故に気を付けましょう。特に交差点では左右確認を必ずしましょう。
 - 無断で農地や、個人の敷地に入らないようにしましょう。
 - 文化財を火災から守りましょう。タバコやゴミの投げ捨ては絶対にしないように。
 - 文化財に傷をつけたり、落書きをしたりしないようにしましょう。
- ……………健康づくりはまず歩くことから。心身の健康のためにご活用下さい。

高山市教育委員会 文化課
高山市健康づくり推進事業
高山市国民健康保険

1 東山寺院・江名子川コース



1 東山寺院・江名子川コース



解答用紙

1 東山寺院・江名子川コース

| | |
|--------------|---------|
| 住所 | |
| 氏名 | 年齢 歳 |
| TEL | |
| 日にち 平成 年 月 日 | |
| スタート時刻 : | |

- CP 1.
- CP 2.
- CP 3. 彗星
- CP 4.
- CP 5.
- CP 6.
- CP 7.
- CP 8.
- CP 9.
- CP 10.
- CP 11.
- CP 12. 重
- CP 13.
- CP 14.
- CP 15. 基
- CP 16.
- CP 17.

| | |
|-------|------|
| ゴール時刻 | : |
| 所要時間 | 時間 分 |

| |
|-----|
| コース |
|-----|

コースを回った御感想をお書き下さい。(裏面に)

高山市文化財めぐりウォークラリー

問題用紙●1 東山寺院・江名子川コース

- CP 1. この文化財の名称は何でしょう。
- CP 2. 学問や詩文、和歌などにすぐれていた津野滄洲は、通称を何といったでしょう。
- CP 3. 森宗弘が観測記録を残した彗星の名は何でしょう。
- CP 4. 儒学者赤田臥牛が開いた学問所の名は何でしょう。
- CP 5. この文化財の名称は何でしょう。
- CP 6. この文化財の名称は何でしょう。
- CP 7. この文化財の名称は何でしょう。
- CP 8. 大原彦四郎の墓碑はなぜ欠けていると思いますか。
- CP 9. この絵馬殿は、もとはどこにあったと言われているでしょう。
- CP 10. 法華寺本堂のような造りの屋根を何造りというでしょう。
- CP 11. 加藤光正は九州の有名な大名の孫です。この大名とは誰でしょう。
- CP 12. 宗猷寺本堂の屋根は何重でしょう。
- CP 13. この文化財の名称は何でしょう。
- CP 14. 宗猷寺の鐘堂の床板に穴が開けてあります。何故だと思いませんか。
- CP 15. 木地師とは、木材から日用器物を作る手工芸者ですが、ここには何基の墓があるでしょう。
- CP 16. 高山を代表する町家建築である日下部家はいつ頃建てられたものでしょう。
- CP 17. 吉島家の軒下には丸い玉が下げてあります。これは何の葉で作られているでしょう。

ご苦労さまでした!!

← 他に回ったコースがあったらコース名を記入して下さい